

Всероссийская олимпиада школьников по обществознанию

Школьный этап

7-й класс

Время выполнения работы – 60 минут (максимум – 65 баллов).

№ задания	1	2	3	4	5	6	Сумма баллов
Макс. балл	20	10	10	6	10	9	65 баллов
Балл участника	14	8	2	3	10	9	46

1. Задания для выбора ответа («да» – высказывание верно, «нет» – высказывание неверно). Внесите свои ответы в таблицу (20 баллов).

1.1. В различных обществах модели семейных отношений могут существенно различаться. ДА

1.2. Религия влияет на отношение верующего к окружающему миру. ДА

1.3. В наиболее развитых странах нет демографических проблем. ДА

1.4. Оскорбление является формальной негативной санкцией. НЕТ

1.5. Общим критерием общественного прогресса является совершенствование науки и техники. ДА

1.6. Общество является частью живой природы. НЕТ

1.7. Социальной мобильностью называют любое изменение положения человека в обществе. ДА

1.8. Для любого государства характерно уважение прав и свобод человека. ДА

1.9. Экономическая наука способна полностью ликвидировать недостаток факторов производства. НЕТ

1.10. Отличительным признаком личности является наличие физических потребностей. НЕТ

1.1	1.2	1.3	1.4	1.5	1.6	1.7	1.8	1.9	1.10
ДА+	ДА+	ДА-	НЕТ+	ДА-	НЕТ+	ДА+	ДА-	НЕТ+	НЕТ+

2. Кто или что является лишним в следующих рядах? Выпишите это слово и обоснуйте свой выбор (10 баллов).

1. Объективность, системность, художественность, доказательность	Художественность. Художественность не является свойством информации.
2. Мироззрение, задатки, ценности, интересы	Задатки. Всё остальное формируется у человека по ходу его жизни.
3. Молодёжь, татары, пенсионеры, дети	Платеры. Платеры – неграждане все остальные – группы населения.
4. Буддизм, ислам, индуизм, христианство	Индуизм. Индуизм – религия, которая есть только в Индии (Индуизм не такая популярная религия, как остальные).

5. Сказки, народные песни, детективы, былины	Детективы. Все остальные подходы являются народными
--	---

3. Прочитайте текст и выполните задания (10 баллов).

По данным Всесоюзной переписи населения, в 1970 г. в СССР проживали 241729 тыс. человек. Из них 57 % проживали в городах и 42 % – в сельской местности. В структуре ВВП на долю сельского хозяйства (включая охоту и рыболовство) приходилось 16,3 %, на долю промышленности (включая строительство) – 45,7 %, на долю сферы услуг (включая торговлю, транспорт и связь) – 38 %.

3.1. На основании этих статистических данных определите, к какому историческому типу общества можно отнести СССР. Обоснуйте вывод. Индустриальное. Т.к. главную роль играет промышленность

3.2. Укажите любые три критерия выделения исторических типов общества. _____

1. Какую роль играет промышленность и традиции

3.3. Определите, о каких сферах общественной жизни идёт речь в тексте.

Сфера услуг, промышленная сфера, сельскохозяйственная сфера, проживание в городе или деревне (сфера проживания)

4. Проанализируйте информацию и выберите верные варианты из предложенных ниже утверждений (ДА\НЕТ). Заполните таблицу (6 баллов).

1. 26 % неработающих – мужчины.
2. Больше половины неработающих людей имеют личный доход менее 40 тысяч рублей.
3. Наибольший процент работающих – среди респондентов 30–44 лет.
4. Если доход семьи респондента больше 90 тысяч рублей, то вероятность того, что он работает, – 85 %.
5. 59 % женщин работает.
6. Большая часть неработающих – пенсионеры.


3

1	2	3	4	5	6
ДА —	ДА —	ДА +	ДА +	ДА +	ДА —



■ Да ■ Нет

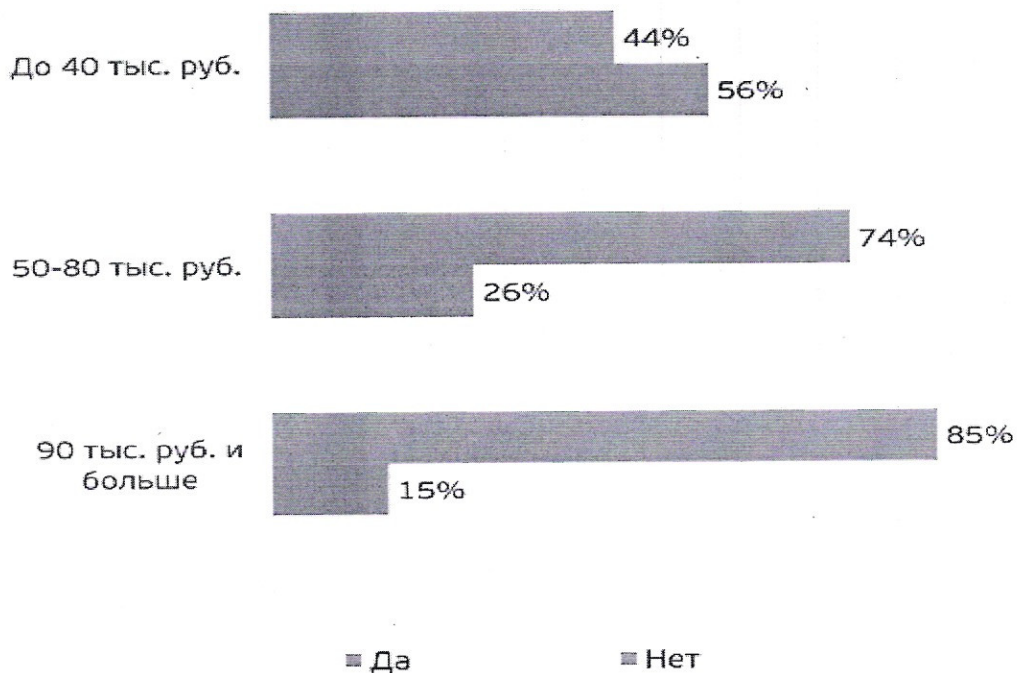
Работаете ли Вы на данный момент?



■ Да ■ Нет


Работаете ли Вы на данный момент?

* в разрезе совокупного семейного дохода в месяц



Работаете ли Вы на данный момент?

* в разрезе возраста



5. Заполните таблицу, распределив изображения на три группы. Впишите названия этих групп. Назовите общее понятие, которое объединяет представленные изображения, и дайте определение этого термина (10 баллов).



ТРУДОВАЯ ДЕЯТЕЛЬНОСТЬ

ИГРОВАЯ ДЕЯТЕЛЬНОСТЬ

УМСТВЕННАЯ ДЕЯТЕЛЬНОСТЬ

<p style="text-align: center;">А +</p>	<p style="text-align: center;">Г +</p>	<p style="text-align: center;">Б +</p>
<p style="text-align: center;">В</p>	<p style="text-align: center;">Е</p>	<p style="text-align: center;">Д</p>

ДЕЯТЕЛЬНОСТЬ⁺ - ДЕЙСТВИЯ ЧЕЛОВЕКА НАПРАВЛЕННЫЕ
 на изменение⁺ окружающего мира и самого человека.

6. Решите экономическую задачу (9 баллов).

Баба-Яга пришла в магазин, чтобы купить молодильных яблок и приворотное зелье. Она купила 20 яблок, каждое весом 150 граммов, а также 10 флаконов приворотного зелья. Поскольку Баба-Яга – пенсионерка, на кассе ей предложили на выбор одну из 3 акций: скидку в размере 11 % на общую сумму покупки, скидку в размере 15 % на яблоки или скидку в размере 25 % на приворотное зелье. Известно, что килограмм яблок стоит 100 волшебных монеток, а флакон приворотного зелья – 20 волшебных монеток. Сколько волшебных монеток сможет сэкономить Баба-Яга, если выберет лучший для себя вариант? Обоснуйте решение.

9 Баба-Яга сэкономит 55 монет если выберет вариант со скидкой 11% на всю сумму покупки

1) 11% на всю сумму покупки

$500 = 100 \cdot 11 = 55$ монет сэкономит Баба-Яга

~~2) 15% на яблоки~~ 2) 15% на всю сумму покупки

~~$20 \cdot 150 : 100 \cdot 15 =$~~

$20 \cdot 150 = 3000 \text{ г} = 3 \text{ кг}$ яблок купила Баба-Яга

$3 \text{ кг} = 300$ монет

$300 : 100 \cdot 15 = 45$ монет сэкономит Баба-Яга

3) 25% на зелье

$10 \cdot 20 = 200$ монет стоит 10 флаконов зелья

$200 : 100 \cdot 25 = 50$ монет сэкономит Баба-Яга

Ответ: Баба-Яга сэкономит 55 монет, если выберет 1 вариант

Всероссийская олимпиада школьников по обществознанию

Школьный этап

7-й класс

Время выполнения работы – 60 минут (максимум – 65 баллов).

№ задания	1	2	3	4	5	6	Сумма баллов
Макс. балл	20	10	10	6	10	9	65 баллов
Балл участника	16	5	0	3	10	9	43

1. Задания для выбора ответа («да» – высказывание верно, «нет» – высказывание неверно). Внесите свои ответы в таблицу (20 баллов).

1.1. В различных обществах модели семейных отношений могут существенно различаться.

1.2. Религия влияет на отношение верующего к окружающему миру.

1.3. В наиболее развитых странах нет демографических проблем.

1.4. Оскорбление является формальной негативной санкцией.

1.5. Общим критерием общественного прогресса является совершенствование науки и техники.

1.6. Общество является частью живой природы.

1.7. Социальной мобильностью называют любое изменение положения человека в обществе.

1.8. Для любого государства характерно уважение прав и свобод человека.

1.9. Экономическая наука способна полностью ликвидировать недостаток факторов производства.

1.10. Отличительным признаком личности является наличие физических потребностей.

1.1	1.2	1.3	1.4	1.5	1.6	1.7	1.8	1.9	1.10
да +	да +	нет +	да -	нет +	нет +	да +	да -	нет +	нет +

2. Кто или что является лишним в следующих рядах? Выпишите это слово и обоснуйте свой выбор (10 баллов).

1. Объективность, системность, художественность, доказательность	Объективность -
2. Мировоззрение, задатки, ценности, интересы	Задатки +
3. Молодёжь, татары, пенсионеры, дети	Татары +
4. Буддизм, ислам, индуизм, христианство	Индуизм это не религия +

5. Сказки, народные песни, детективы, былины

⁺
Детективы это не жанр литературы —

3. Прочитайте текст и выполните задания (10 баллов).

По данным Всесоюзной переписи населения, в 1970 г. в СССР проживали 241729 тыс. человек. Из них 57 % проживали в городах и 42 % – в сельской местности. В структуре ВВП на долю сельского хозяйства (включая охоту и рыболовство) приходилось 16,3 %, на долю промышленности (включая строительство) – 45,7 %, на долю сферы услуг (включая торговлю, транспорт и связь) – 38 %.

3.1. На основании этих статистических данных определите, к какому историческому типу общества можно отнести СССР. Обоснуйте вывод. Тип промышленный

3.2. Укажите любые три критерия выделения исторических типов общества. _____

3.3. Определите, о каких сферах общественной жизни идёт речь в тексте. _____

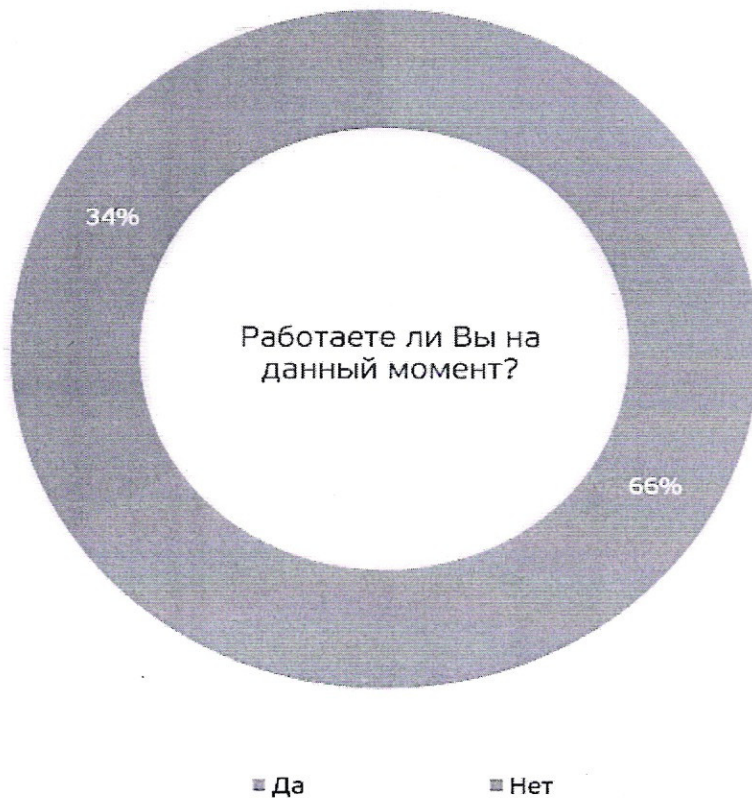
4. Проанализируйте информацию и выберите верные варианты из предложенных ниже утверждений (ДА\НЕТ). Заполните таблицу (6 баллов).

1. 26 % неработающих – мужчины.
2. Больше половины неработающих людей имеют личный доход менее 40 тысяч рублей.
3. Наибольший процент работающих – среди респондентов 30–44 лет.
4. Если доход семьи респондента больше 90 тысяч рублей, то вероятность того, что он работает, – 85 %.
5. 59 % женщин работает.
6. Большая часть неработающих – пенсионеры.

1	2	3	4	5	6
да —	да —	да +	да +	да +	да —

03 71903

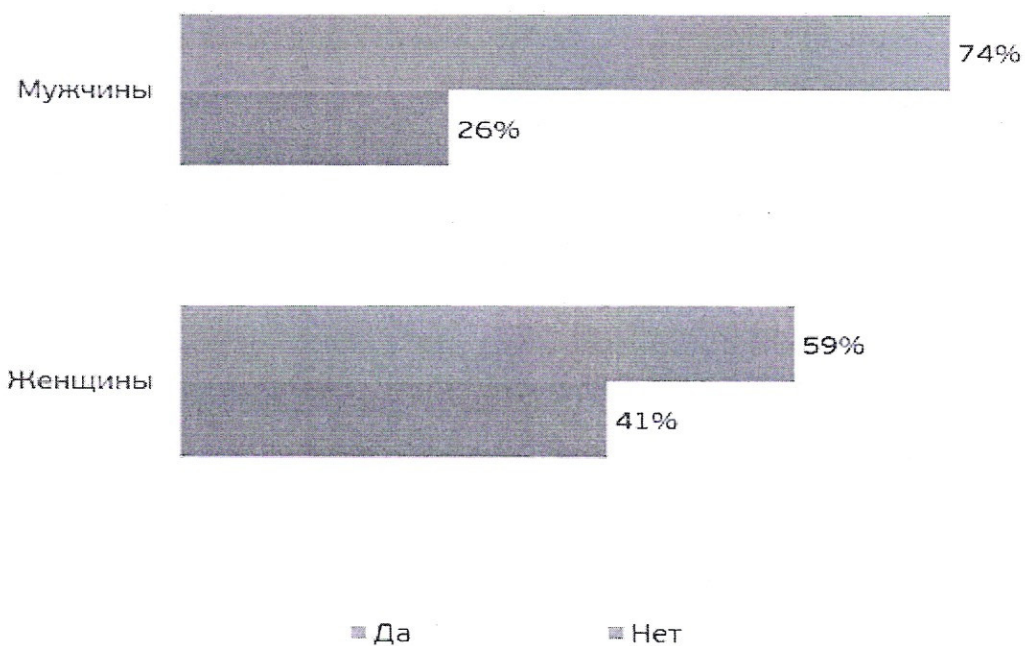
Всероссийский телефонный опрос, 8-14 августа 2023, 1600 респондентов



Всероссийский телефонный опрос, 8-14 августа 2023, 1600 респондентов

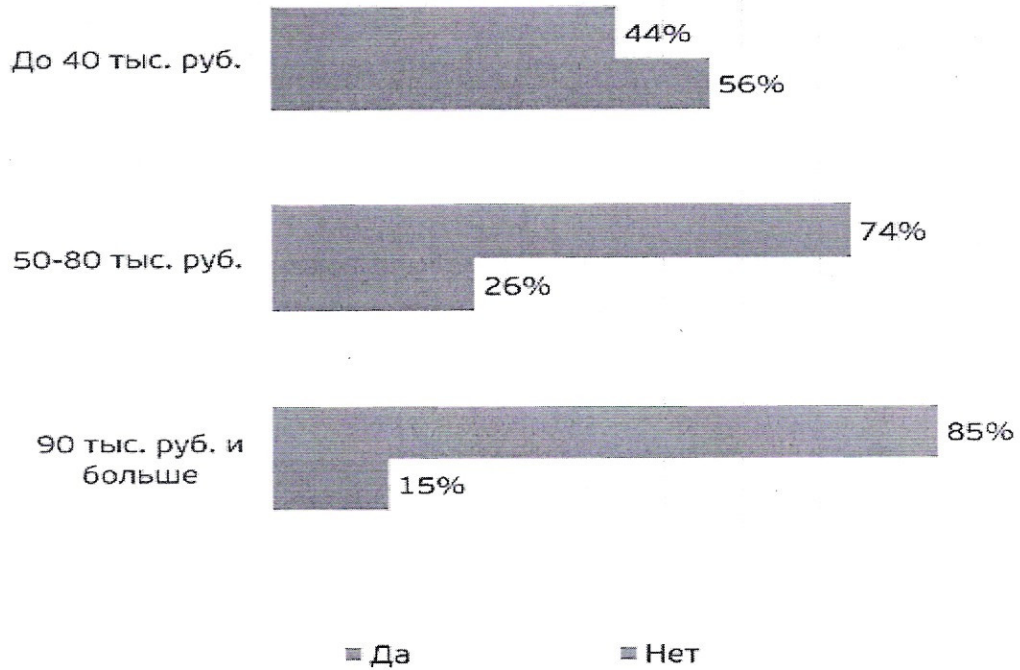


Работаете ли Вы на данный момент?




Работаете ли Вы на данный момент?

* в разрезе совокупного семейного дохода в месяц



Работаете ли Вы на данный момент?

* в разрезе возраста



03 41903

5. Заполните таблицу, распределив изображения на три группы. Впишите названия этих групп. Назовите общее понятие, которое объединяет представленные изображения, и дайте определение этого термина (10 баллов).



<i>современная школьная +</i>		<i>трудящаяся +</i>	
Г +	Д	А	
Е	Б	В	

Деятельность +

6. Решите экономическую задачу (9 баллов).

Баба-Яга пришла в магазин, чтобы купить молодильных яблок и приворотное зелье. Она купила 20 яблок, каждое весом 150 граммов, а также 10 флаконов приворотного зелья. Поскольку Баба-Яга – пенсионерка, на кассе ей предложили на выбор одну из 3 акций: скидку в размере 11 % на общую сумму покупки, скидку в размере 15 % на яблоки или скидку в размере 25 % на приворотное зелье. Известно, что килограмм яблок стоит 100 волшебных монеток, а флакон приворотного зелья – 20 волшебных монеток. Сколько волшебных монеток сможет сэкономить Баба-Яга, если выберет лучший для себя вариант? Обоснуйте решение.

1) $20 \cdot 150 = 3000$ (г)

3000 г = 3 кг молодильных яблок купила Баба-Яга.

Известно, что за кг яблок нужно отдать 100 монет.

2) $3 \cdot 100 = 300$ (м) заплатила за яблоки Баба-Яга

3) $300 : 100 = 3$ (м) – 1% от заплаченной суммы

4) $3 \cdot 15 = 45$ (м) сэкономит Баба-Яга при 2-ой скидке

5) $10 \cdot 20 = 200$ (м) за флаконы с зельем

6) $200 : 100 = 2$ (м) – 1% от заплаченной суммы

7) $2 \cdot 25 = 50$ (м) сэкономит Баба-Яга при 3-ей скидке

8) $300 + 200 = 500$ (м) всего заплатила Баба-Яга.

9) $500 : 100 = 5$ (м) – 1% от заплаченной суммы.

10) $5 \cdot 10 = 55$ (м) сэкономит Баба-Яга при 1-ой скидке

$55 > 45$

$55 > 50$

96) 55 – лучшая скидка

Ответ: 55 монет